

AJMAL NATIONAL TALENT SEARCH (ANTS) EXAMINATION - 2013

Class : H.S.

Time : 2 hours / সময় : ২ ঘন্টা

Full Marks / মুঠ নম্বৰ / মোট নম্বৰ : (40+40+20)=100

General Studies

1. Who is known as the Father of Indian Space Programme?

ভাৰতৰ মহাকাশ গৱেষণাৰ জনক কোন আছিল ? / ভাৰতীয় মহাকাশ গৱেষণাৰ জনক কে ছিলেন ?

- (A) C. V. Raman (B) Vikrama Sarabhai (C) A. P. J. Abdul Kalam (D) Satish Dhawan
চি.ভি. ৰমণ বিক্রম ছাৰাভাই এ.পি.জে. আব্দুল কালাম সতীশ ধাৱান
সি.ভি. ৰমণ বিক্রম সারাভাই এ.পি.জে. আব্দুল কালাম সতীশ ধাওয়ান

2. First mobile phone conversation took place in India between

ভাৰতত পোনপ্ৰথমে কাৰ কাৰ মাজত মোবাইল ফোনত কথোপকথন হৈছিল ? / ভাৰতে সৰ্বপ্ৰথম মোবাইলে কথোপকথন হয়

- (A) Jyoti Basu and Sukhram (B) Narasimha Rao and Sukhram
জ্যোতি বসু আৰু সুখৰামৰ মাজত নৰসিংহ ৰাও আৰু সুখৰামৰ মাজত
জ্যোতি বসু এবং সুখৰামের মধ্যে নরসীমা ৰাও এবং সুখৰামের মধ্যে
(C) Ambika Soni and Narasimha Rao (D) None of these
অম্বিকা ছোনি আৰু নৰসিংহ ৰাওৰ মাজত ইয়াৰে এজনো নহয়
অম্বিকা সোনি এবং नरसীमा ৰাওয়ের মধ্যে ইহাৰ কেহই নন

3. India's first supercomputer is known as

ভাৰতৰ প্ৰথম চুপাৰ কম্পিউটাৰ কি নামেৰে জনা যায় ? / ভাৰতৰ প্ৰথম সুপাৰ কম্পিউটাৰ কি নামে জনা যায় ?

- (A) SAGA (B) PARAM 8000 (C) EKA (D) PARAM YUVA

4. What is the name of India's National Aquatic Animal?

ভাৰতৰ জাতীয় জলচৰ প্ৰাণীৰ নাম হ'ল। / ভাৰতৰ জাতীয় জলচৰ প্ৰাণীৰ নাম হ'ল

- (A) River Dolphin (B) Crocodile (C) Katla Fish (D) Green Frog
শিছ/ ৰিভাৰ ডলফিন ঘৰীয়াল / কুমীৰ ভকুৰা / কাতল মাছ সেউজীয়া ভেকুলী / সবুজ ব্যাঙ

5. Where did the English first open their factories in the Eastern part of India?

ইংৰাজ সকলে পূৰ্ব ভাৰতৰ কোনঠাইত প্ৰথমে কাৰখানা স্থাপন কৰিছিল ? / ইংৰাজেৰা পূৰ্ব ভাৰতৰ কোথায় প্ৰথম কাৰখানা স্থাপন কৰে ?

- (A) Assam (B) Odisha (C) Bihar (D) Sikkim
অসম / আসাম উড়িষা বিহাৰ / বিহাৰ চিকিম / সিকিম

6. Sati was declared illegal and punishable by.....

কোনে সতীদাহ প্ৰথাৰ বেআইনী আৰু দণ্ডনীয় বুলি ঘোষণা কৰিছিল ? / সতী প্ৰথাকে বেআইনী ও দণ্ডনীয় বলে ঘোষণা করেন

- (A) Lord William Bentinck (B) Lord Ripon (C) Lord Canning (D) Lord Dalhousie
লৰ্ড উইলিয়াম বেন্টিং লৰ্ড ৰিপণ / লৰ্ড ৰিপণ লৰ্ড কেনিং লৰ্ড ডেলহাউচী / লৰ্ড ডালহাউচী

7. Who gave the epithet "Father of the Nation" to Mahatma Gandhi ?

কোনে প্ৰথমে মহাত্মা গান্ধীক জাতিৰ পিতা বুলি সম্বোধন কৰিছিল ? / কে প্ৰথম মহাত্মা গান্ধীকে 'জাতীয় পিতা' হিসাবে সম্বোধন করেন ?

- (A) Subhas Chandra Bose (B) Rabindra Nath Tagore (C) Bal Gangadhar Tilak (D) Jawaharlal Nehru
সুভাষ চন্দ্ৰ বসু ৰবীন্দ্ৰ নাথ ঠাকুৰ বাল গঙ্গাধৰ তিলক জৱাহৰলাল নেহৰু

8. Mangal Pandey was a sepoy at

মঙ্গল পাণ্ডে সেনাদলৰ সৈনিক আছিল। / মঙ্গল পাণ্ডে এৰ সৈনিক ছিলেন।

(A) 34th Bengal Native Infantry

34 বেঙ্গল স্থানীয় পদাতিক বাহিনী

(B) Madras Light Cavalry

মাদ্ৰাজ লাইট অশ্বারোহী বাহিনী / মাদ্ৰাজ লাইট অশ্বারোহী বাহিনী

(C) 5th Royal Gurkha Rifle

35 রয়েল গোর্খা বাইফল বাহিনী / 35 রয়েল গোর্খা বাইফল বাহিনী

(D) None of these

এটাও নহয় / একটিও নয়

9. First Chief Justice of India was.....

ভাৰতৰ প্ৰথম মুখ্য বিচাৰপতি কোন আছিল ? / ভাৰতৰ প্ৰথম মুখ্য বিচাৰপতি

(A) Patanjali Sastri

পতঞ্জলী শাস্ত্ৰী

(B) H J Kania

এইচ জে কানিয়া

(C) S R Das

এছ আৰ দাস / এস আৰ দাস

(D) Chand Mahajan

চান্দ মহাজন

10. Right to Information Act in India applies to all states and Union Territories except

..... ৰাজ্যৰ বাহিৰে ভাৰতৰ সকলো ৰাজ্য আৰু কেন্দ্ৰীয়শাসিত অঞ্চলত তথ্য জনাৰ আইন প্ৰযোজ্য হয়।

ভাৰতৰ ৰাজ্য ছাড়া বাকী সকল ৰাজ্য ও কেন্দ্ৰীয় শাসিত অঞ্চলে তথ্য জনাৰ আইন প্ৰযোজ্য হয়।

(A) Jammu and Kashmir

জম্মু আৰু কাশ্মীৰ / জম্মু এবং কাশ্মীর

(B) Nagaland

নাগালেণ্ড

(C) Goa

গোৱা/গোয়া

(D) Sikkim

চিকিম / সিকিম

11. The state tree of Tripura is

ত্ৰিপুৰাৰ ৰাজ্যিক গছ কি ?

ত্ৰিপুৰাৰ ৰাজ্যিক গছটি কি ?

(A) Mango

আম

(B) Teak

চেগুন / সেগুন

(C) Agar

অগৰু/ আগৰ

(D) Jackfruit

কাঠাল / কাঠাল

12. Italian Foreign Minister Giulio Terzi resigned over his government's decision for

ইটালীৰ বৈদেশিক মন্ত্ৰী গুইলিও টাৰ্জি চৰকাৰৰ কোন সিদ্ধান্তৰ বিৰোধিতা কৰি পদত্যাগ কৰিছিল

ইটালীৰ বিদেশমন্ত্ৰী গুইলিও টাৰ্জি পদত্যাগ কৰেন এৰ জন্য।

(A) Return of two Marines to India.

দুজন নৌসেনাৰ ভাৰতলৈ প্ৰত্যাপন / দুজন নৌসেনাৰ ভাৰতে প্ৰত্যাপন

(B) Differences with the Prime Minister

প্ৰধান মন্ত্ৰীৰ লগত মনোমালিন্য / প্ৰধান মন্ত্ৰীৰ সৈতে মনোমালিন্য

(C) Corruption charges

বিত্তীয় কেলেংকাৰী / বিত্তীয় কেলেঙ্কাৰী

(D) Sex Scandal

যৌন কেলেংকাৰী / যৌন কেলেঙ্কাৰী

13. Who holds the record for the highest number of National Film Awards with 32 wins in various categories ?

তলৰ কোনজন ব্যক্তিয়ে বিভিন্ন শিতানত 32 বার ৰাষ্ট্ৰীয় পুৰস্কাৰ লাভ কৰি অভিলেখ সৃষ্টি কৰিছে ?

নীচৰ কোন ব্যক্তি বিভিন্ন বিভাগে 32 বার ৰাষ্ট্ৰীয় পুৰস্কাৰ লাভ কৰে অভিলেখ সৃষ্টি কৰেন ?

(A) Satyajit Ray

সত্যজিত ৰয়

সত্যজিত ৰায়

(B) Gobind Nihalani

গোবিন্দ নিহলানী

গোবিন্দ নিহলানী

(C) Guru Dutt

গুৰুদত্ত

গুৰুদত্ত

(D) Raj Kapoor

ৰাজ কাপুৰ

ৰাজ কাপুৰ

14. First Indian movie nominated for Oscar

অস্কাৰ বঁটাৰ বিবেচনাৰ বাবে মনোনীত কৰা প্ৰথম ভাৰতীয় বোলছবিখন হৈছে। / অস্কাৰ পুৰস্কাৰৰ জন্য মনোনীত কৰা প্ৰথম ভাৰতীয় ছবি

(A) The Guide

দি গাইড

(B) Mother India

মাদাৰ ইণ্ডিয়া / মাদাৰ ইণ্ডিয়া

(C) Madhumati

মধুমতী

(D) Amrapali

আম্ৰপালী

15. Which one is the oldest football club in India ?

ভাৰতৰ আটাইতকৈ পুৰণি ফুটবল ক্লাবটো হ'ল.....। / ভাৰতৰে সবচাইতে পুৰানো ফুটবল ক্লাব

- (A) Mohun Bagan (B) East Bengal (C) Mohammedan SC (D) Mahindra United
মোহন বাগান ইষ্ট বেংগল / ইস্ট বেঙ্গাল মহম্মেডান স্পটিং মহিন্দা ইউনাইটেড

16. The territory of Porus who offered strong resistance to Alexander was situated between the rivers of

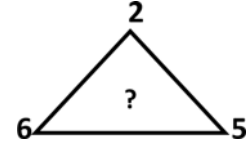
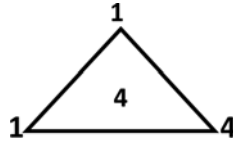
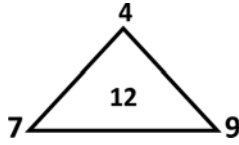
আলেকজেণ্ডাৰক প্ৰচণ্ড বাধা দিয়া পুৰুষ শাসিত ভূখণ্ড নদীৰ মাজত অৱস্থিত আছিল।

আলেকজেণ্ডাৰকে বাধা দেওয়া পুৰুষ শাসিত অঞ্চল নদীৰ মध्ये অবস্থিত ছিল।

- (A) Sutlej and Beas (B) Jhelum and Chenab (C) Ravi and Chenab (D) Ganga and Yamuna
চুটলেজ আৰু বীজ ঝীলাম আৰু চেনাব বৰী আৰু চেনাব গঙ্গা আৰু যমুনা
সুতলেজ ও বিয়াস ঝীলাম ও চেনাব ৰবি ও চেনাব গঙ্গা ও যমুনা

17. Which number replaces the question mark?

তলৰ ত্ৰিভুজত দিয়া প্ৰশ্নবোধক চিহ্নৰ ঠাইত কি সংখ্যা হ'ব ? / ত্ৰিভুজৰ প্ৰশ্নবোধক চিহ্নৰ স্থানে কি সংখ্যা হবে ?



- (A) 6 (B) 9 (C) 8 (D) 12

18. Tanya is older than Eric. Cliff is older than Tanya. Eric is older than Cliff. If the first two statements are true, the third statement is

তানিয়া এৰিকতকৈ জেষ্ঠ। ক্লিফ তানিয়াতকৈও জেষ্ঠ। এৰিক আকৌ ক্লিফতকৈ জেষ্ঠ। যদি প্ৰথম দুটা বক্তব্য শুদ্ধ হয় তেন্তে তৃতীয় বক্তব্যটো

তানিয়া এৰিক থেকে বড়। ক্লিফ তানিয়াথেকে বড়। এৰিক আবার ক্লিফ থেকে বড়। যদি প্ৰথম দুটি বক্তব্য শুদ্ধ হয়, তবে তৃতীয় বক্তব্যটি

- (A) true (B) False (C) uncertain (D) not sure
শুদ্ধ ভুল অনিশ্চিত ক'ব নোৱাৰো / বলতে পারিনা

19. The hazards of radiation belts include

তেজস্ক্ৰীয় বিকিৰণ অঞ্চলত হোৱা বিপদ সমূহ। / তেজস্ক্ৰীয় বিকিৰণ অঞ্চলে হওয়া বিপদ সমূহ

- (A) deterioration of electronic circuits (B) damage of solar cells of spacecraft
বৈদ্যুতিন বৰ্তনীৰ অবক্ষয় / বৈদ্যুতিন বৰ্তনীৰ অবক্ষয় মহাকাশ যানৰ সৌৰকোষ ধ্বংস / মহাকাশ যানৰ সৌৰকোষৰ ধ্বংস
(C) adverse effect on living organisms (D) All of these
জীৱ জগতৰ ওপৰত প্ৰতিকূল প্ৰভাৱ / জীৱ জগতৰ উপৰ প্ৰতিকূল প্ৰভাৱ আটাইকেইটা / সবকয়টি

20. Gilt-edged market means

গিল্ট-এজড্ বজাৰ মানে

গিল্ট-এজড্ বাজাৰ মানে

- (A) bullion market (B) market of government securities
সোণ-ৰূপৰ বজাৰ / সোনা-ৰূপাৰ বাজাৰ চৰকাৰী প্ৰতিভূতি বজাৰ / সরকারী প্রতিভূতি বাজাৰ
(C) market of guns (D) market of pure metals

21. Group "A" blood

A গ্ৰুপৰ তেজ। / A গ্ৰুপৰেৰ ৰক্ত

(A) can be donated to individuals of Group AB

AB গ্ৰুপৰ ব্যক্তিকে দান দিব পাৰি / AB গ্ৰুপৰ ব্যক্তিকে দান করতে পাৰি

(B) can be donated to Group B individuals

B গ্ৰুপৰ ব্যক্তিকে দান দিব পাৰি / B গ্ৰুপৰ ব্যক্তিকে দান করতে পাৰি

(C) contains Group B antigens on the surface

লোহিত ৰক্ত কণিকাৰ ওপৰত B এন্টিজেন বহণ কৰে / লোহিত ৰক্ত কণিকাৰ উপৰ B এন্টিজেন বহন কৰে

(D) can always be donated to an Rh+ individual of red blood cells

Rh+ ব্যক্তিকে সদায় দান দিব পাৰি / Rh+ ব্যক্তিকে সৰ্বদা দান করতে পাৰি

22. The software used to drive micro-processor-based systems is called:

মাইক্ৰ-প্ৰচেচৰ যুক্ত চিষ্টেম চলাবলৈ ব্যৱহাৰ কৰা চফটৱেৰ বোলে।

মাইক্ৰ-প্ৰসেসৰ যুক্ত সিস্টেম চালাতে ব্যৱহাৰ কৰা সফটৱেৰকে বলে।

(A) Assembly language programs

এছেম্বলী লেংগুৱেজ প্ৰোগ্ৰাম / এসেম্বলী লেংগুৱেজ প্ৰোগ্ৰাম

(B) firmware

ফাৰ্মৱেৰ / ফাৰ্মৱেৰ

(C) BASIC interpreter instructions

বেচিক ইন্টাৰপ্ৰিটাৰ ইন্সট্ৰাকশ্বনচ্ / বেসিক ইন্টাৰপ্ৰিটাৰ ইন্সট্ৰাকশ্বনচ্

(D) flowchart instructions

ফ্লোচাৰ্ট ইন্সট্ৰাকশ্বনচ্ / ফ্লুচাৰ্ট ইন্সট্ৰাকশ্বনচ্

23. Statement : Should India encourage exports, when most things are insufficient for internal use itself?

বিবৰণ : আভ্যন্তৰীণ চাহিদা পূৰণতে যেতিয়া সৰহ সংখ্যক সামগ্ৰী অপৰ্যাপ্ত, তেতিয়া ভাৰবৰ্ষই ৰপ্তানীক উৎসাহ যোগোৱা উচিত নে ?

বিবৰণ : আভ্যন্তৰীণ চাহিদা পূৰণে যখন বেশীৰ ভাগ সামগ্ৰী অপৰ্যাপ্ত, তখন ভাৰতৰ ৰপ্তানীকে উৎসাহ দেওয়া উচিত ?

Arguments:

যুক্তি হল-

(I) Yes : We have to earn foreign exchange to pay for our imports.

হয়- আমি আমদানী দেয় পৰিশোধ কৰিবলৈ বৈদেশিক বিনিময় মুদ্ৰা অৰ্জন কৰিব লাগে।

হ্যাঁ- আমাদেৰ আমদানী পৰিশোধ কৰাৰ জন্য বৈদেশিক মুদ্ৰা অৰ্জন করতে লাগে।

(II) No : Even selective encouragement would lead to shortages.

নহয়- আনকি নিৰ্বাচিত কিছু উৎসাহ দিলেও ইয়ে নাটনীৰ সৃষ্টি কৰিব।

না- এমনকি কিছু নিৰ্দিষ্ট উৎসাহ ও অভাব সৃষ্টি কৰে।

(A) Only argument I is strong

মাত্ৰ I নং যুক্তিয়ে সৰল / মাত্ৰ I নং যুক্তিই সৰল

(B) Only argument II is strong

মাত্ৰ II নং যুক্তিয়ে সৰল / মাত্ৰ II নং যুক্তিই সৰল

(C) Either I or II is strong

I নং আৰু II নং যুক্তি সৰল / I নং এবং II নং যুক্তিই সৰল

(D) Neither I nor II is strong

I নাইবা II এটাও যুক্তি সৰল নহয় / I বা II একটাও যুক্তি সৰল নয়

(E) Both I and II are strong

I নং আৰু II নং যুক্তিয়ে সৰল / I নং এবং II নং যুক্তিই সৰল

24. What is the code name given to the collective international action under UN authority to protect the Libyan people against Muammar Gaddafi's forces?

লিবিয়াৰ জন সাধাৰণক মুৰাম্মাৰ গান্সফীৰ সৈন্য বাহিনীৰ পৰা বক্ষার্থে ৰাষ্ট্ৰ সংঘৰ অধীনত উম্মেহতীয়া আন্তৰ্জাতিক অভিযানৰ সাংকেতিক নাম কি আছিল ?
লিবিয়াৰ জনসাধাৰণকে মুৰাম্মাৰ গান্সফীৰ সামৰিক বাহিনীৰ হাত থেকে ৰক্ষাৰ জন্য ৰাষ্ট্ৰসংঘৰ অধীনস্থ সন্মিলিত অভিযানৰ সাংকেতিক নাম কি ছিল ?

(A) Operation Ortsac

অপাৰেশ্বন অৰ্টচাক / অপাৰেশ্বন অৰ্টসাক

(B) Operation Trident

অপাৰেশ্বন ট্ৰাইডেন্ট / অপাৰেশ্বন ট্ৰাইডেন্ট

(C) Operation Swift Strike

অপাৰেশ্বন চুইফ্ট ষ্ট্ৰাইক / অপাৰেশ্বন সুইফ্ট স্ট্ৰাইক

(D) Operation Odyssey Dawn

অপাৰেশ্বন ওডিছি ডন / অপাৰেশ্বন ওডিসি ডন

25. What is the name of the pilot project launched by former President Pratibha Patil which aims to empower women in rural areas through telecom services?

টেলিকম সেৱাৰ দ্বাৰা গ্ৰামীণ মহিলা সবলিকৰণৰ বাবে প্ৰাক্তন ৰাষ্ট্ৰপতি প্ৰতিভা পাটিলে জাৰি কৰা পৰীক্ষামূলক প্ৰকল্পৰ নাম কি আছিল ?

টেলিকম সেৱাৰ দ্বাৰা গ্ৰামীণ মহিলা সবলীকৰণৰ জন্য প্ৰাক্তন ৰাষ্ট্ৰপতি প্ৰতিভা পাটিলে জাৰি কৰা পৰীক্ষামূলক প্ৰকল্পৰ নাম কি ছিল ?

(A) Indira Awaz

ইন্দিৰা আৱাজ/ইন্দিৰা আওয়াজ

(B) Awaz Uthao

আৱাজ উঠাও/আওয়াজ উঠাও

(C) Sanchar Shakti

সঞ্চাৰ শক্তি/সঞ্চাৰ শক্তি

(D) Soochna Shakti

সূচনা শক্তি/সূচনা শক্তি

26. Which of the following is an indirect tax?

তলৰ কোনবিধ পৰোক্ষ কৰ ? / নীচের কোনটি পরোক্ষ কৰ ?

(A) Wealth tax

সম্পত্তি কৰ / সম্পত্তি কৰ

(B) Corporation tax

নিগম কৰ / নিগম কৰ

(C) Excise duty

উৎপাদন শুল্ক

(D) Capital gains tax

মূলধনীআয়-কৰ / মূলধনীআয়কৰ

27. Which of the following state won the best state Award for strengthening the Panchayati Raj institutions..?

তলৰ কোনখন ৰাজ্যই পঞ্চায়তীৰাজ শক্তিশালী কৰাৰ বাবে প্ৰথম পুৰস্কাৰ পাইছে ? / কোন ৰাজ্য পঞ্চায়তীৰাজ শক্তিশালী কৰাৰ জন্য প্ৰথম পুৰস্কাৰ পায় ?

(A) Bihar

বিহাৰ / বিহাৰ

(B) Kerala

কেৰেলা / কেৰলা

(C) Sikkim

ছিকিম / সিকিম

(D) Rajasthan

ৰাজস্থান / ৰাজস্থান

28. Who was the author of the famous storybook 'Alice's Adventures in Wonderland'?

'Alice's Adventures in Wonderland' ৰ লিখক কোন ? / 'Alice's Adventures in Wonderland' এর লেখক ?

(A) Rudyard Kipling

ৰুডয়ৰ্ড কিপলিং/ৰুডইয়াৰ্ড কিপলিং

(B) John Keats

জন কিট্চ/জন কিট্‌স্

(C) Lewis Carroll

লিউচ কেৰল/লিউস কেৰল

(D) H G Wells

এইচ জি ওৱেলচ/এইচ জি এয়েলস

29. Recently a parallel body of the Assam Sahitya Sabha was formed as Assam Sahitya Sanmiloni. Who is the President of it ?

অলপতে অসম সাহিত্য সভাৰ সমান্তৰাল, অসম সাহিত্য সন্মিলনী নামেৰে আন এটি অনুষ্ঠানৰ জন্ম হৈছে। ইয়াৰ সভাপতি কোন ?

সাম্প্ৰতিক কালে অসম সাহিত্য সভাৰ সমান্তৰাল অসম সাহিত্য সন্মিলনী নামে একটি অনুষ্ঠানের জন্ম হয়। ইহার সভাপতি কে ?

(A) Homen Bargohain

হোমেন বৰগোহাঞী

হোমেন বৰগোহাই

(B) Hiren Gohain

হীৰেণ গোঁহাই

হীৰেণ গোঁহাই

(C) Imran Shah

ইমাৰণ শ্বাহ

ইমৰাণ শাহ

(D) Rang Bong Terang

ৰংবং তেৰাং

ৰংবং তেৰাং

30. To open a new individual savings account in a Bank which of the following documents is not accepted as individual Investor's Proof of Identity under KYC norms:

KYC বিধান অনুযায়ী ব্যক্তিগত সঞ্চয় হিচাপ খুলিবলৈ, বেংকে কোনখন প্ৰমাণ পত্ৰক ব্যক্তিগত সঞ্চয় কাৰীৰ পৰিচয়ৰ বাবে গ্ৰহণ নকৰে।

KYC বিধান অনুযায়ী ব্যক্তিগত সঞ্চয় হিচাব খুলতে বেংক কোন প্ৰমাণপত্ৰকে ব্যক্তিগত সঞ্চয়কাৰীৰ পৰিচয় হিসেবে গ্ৰহণ কৰে না ?

(A) Photo PAN Card

(B) Driving License

(C) Passport copy

(D) school certificate

31. The concept of five year plans in India was introduced by

ভাৰতৰ পঞ্চ বার্ষিক পরিকল্পনাৰ সূচনা কোনে কৰিছিল ? / ভারতে पञ्चवर्षिक परिकल्पनाৰ সূচনা করেন

- (A) Lord Mountbatten (B) Jawaharlal Nehru (C) Indira Gandhi (D) Lal Bahadur Shastri
লৰ্ড মাউন্টবেটেন জৱাহৰ লাল নেহৰু ইন্দিৰা গান্ধী লাল বাহাদুৰ শাস্ত্ৰী
লৰ্ড মাউন্টবেটেন জওহৰলাল নেহৰু ইন্দিৰা গান্ধী লাল বাহাদুৰ শাস্ত্ৰী

32. Who wrote the book "What young India wants" ?

"What young India wants" ৰ লিখক কোন ? / "What young India wants" এর লেখক কে ?

- (A) Arindam Choudhury (B) Shobha Dey (C) Chetan Bhagat (D) Arnab Goswami
অৰিন্দম চৌধুৰী / অৰিন্দম চৌধুৰী শোভা দে চেতন ভগত অৰ্ণব গোস্বামী

33. Habeas corpus writ is associated with

Habeas corpus (বন্দি উপস্থাপন লেখ) আবেদন কিহৰ লগত জড়িত ? / Habeas corpus (বন্দি উপস্থাপন লেখ) আবেদন কিসেৰ সাথে জড়িত ?

- (A) Anticipatory bail (B) quashing the order of an administrative authority
অগ্রিম জামিণ / অগ্রিম জামিণ কোনো প্রাসাশনিক আদেশ খাৰিজ কৰা / কোন প্রাসাশনিক আদেশ খাৰিজ কৰা
(C) An order of freedom of speech (D) production of person before the court
বাক স্বাধীনতাৰ আদেশ / বাক স্বাধীনতাৰ আদেশ অভিযুক্তক ন্যায়ালয়ত হাজিৰ কৰোৱা / অভিযুক্তকে ন্যায়ালয়ে হাজিৰ কৰা

34. Find the odd pair out,

বিসদৃশ যোৰ বাচি উলিওৱা : / বিসদৃশ জোড়া বেছে বের কর :

- (A) Dheer beel : Dhubri district (B) Khamrenga beel : kamrup (M)
ধীৰবিল : ধুবুৰী জিলা কামৰেঙা বিল : কামৰূপ মহানগৰ
ধীৰবিল : ধুবুৰী জিলা কামৰেঙা বিল : কামৰূপ মহানগৰ (মেট্ৰো)
(C) Tamranga beel : Bongaigaon district (D) Mer beel : Jorhat district
তামৰাঙা বিল - বঙাইগাওঁ জিলা মেৰ বিল : যোৰহাট জিলা
তামৰাঙা বিল - বঙাইগাওঁ জিলা মেৰ বিল : যোৰহাট জিলা

35. The National Park of Assam where the rare white-winged duck (Deohans) is found is

কোনখন অসমৰ ৰাষ্ট্ৰীয় উদ্যানত দুপ্পাপ্য বগা পাখীৰ দেওহাঁহ পোৱা যায় ? / আসামেৰ কোন ৰাষ্ট্ৰীয় উদ্যানে দুৰ্লভ সাদা পাখাৰ হাঁস (দেওহাঁস) পাওয়া যায় ?

- (A) Nameri (B) Dibru Saikhowa (C) Manas (D) Orang
নামেৰী / নামেৰি ডিব্ৰু চৈখোৱা / ডিব্ৰু সৈখোৱা মানাহ / মানস ওৰাং / ওৰাং

36. Pacemaker is implanted in heart when one of the following is defective

তলৰ কি অকামিলা হলে হৃদপিণ্ডত পেচ মেকাৰ স্থাপন কৰা হয় ? / নীচের কোনটি ত্রুটিপূর্ণ হলে হৃদপিণ্ডে পেসমেকাৰ স্থাপন কৰা হয় ?

- (A) SA node (B) AV node (C) Purkinje fibre (D) Bundle of His

37. The Mediterranean lands are often called the world's-

ভূমধ্য সাগৰীয় অঞ্চলক প্ৰায়ে বুলিও জনা যায়। / ভূমধ্য সাগৰীয় অঞ্চলকে নামেও জনা যায়।

- (A) Grazing lands (B) Forest lands (C) Orchard lands (D) Paddy lands
ঘাঁহনি অঞ্চল / পশুচাৰণ অঞ্চল বনাঞ্চল ফল-মূল অঞ্চল ধানী অঞ্চল / ধান্য অঞ্চল

38. What is the major role of a greenhouse gas that contributes to temperature rise of the Earth's surface?

পৃথিবীৰ ভূপৃষ্ঠৰ উষ্ণতা বৃদ্ধিত সেউজ গৃহ গেছৰ প্ৰভাৱ কি ? / পৃথিবীৰ ভূপৃষ্ঠৰ উষ্ণতা বৃদ্ধিতে সবুজ গৃহ গ্যাসৰ প্ৰভাৱ কি ?

(A) Stops both incoming sunlight and outgoing infrared radiation

সূৰ্যৰ ৰশ্মি অহাত আৰু অৱলোহিত বিকিৰণ উভতি যোৱাত বাধা দিয়ে। / সূৰ্যৰ ৰশ্মি আসতে এবং অবলোহিত বিকিৰণকে চলে যেতে বাধা দিয়ে।

(B) Transparent to both incoming sunlight and outgoing infrared radiation

সূৰ্যৰ ৰশ্মি অহাত বা-অৱলোহিত বিকিৰণ যোৱাত কোনো বাধা নিদিয়ে। / সূৰ্যৰ ৰশ্মিকে আসতে বা অবলোহিত বিকিৰণ যেতে কোন বাধা দেয়না

(C) Lets incoming sunlight pass through but stops outgoing infrared radiation

সূৰ্যৰ ৰশ্মিক আহিবলৈ দিয়ে কিন্তু অৱলোহিত বিকিৰণ যোৱাত বাধা দিয়ে। / সূৰ্যৰ ৰশ্মিকে আসতে দেয় কিন্তু অবলোহিত বিকিৰণ যাওয়ায় বাধা দেয়।

(D) Lets outgoing infrared radiation pass through but stops incoming sunlight

অৱলোহিত বিকিৰণক উভতি যোৱাত বাধা নিদিয়ে কিন্তু সূৰ্যৰ ৰশ্মিক অহাত বাধা দিয়ে।

অবলোহিত বিকিৰণকে চলে যেতে বাধা দেয় না কিন্তু সূৰ্যৰ ৰশ্মিকে আসতে বাধা দিয়ে।

39. Irfan Khan has bagged the best actor award in the National film award 2013 for his lead role in the film " Paan Singh Tomar". Who was the Director of the Film ?

“পান সিং তোমৰ” চিনেমাত মুখ্য চৰিত্ৰত অভিনয় কৰা ইৰফান খানে 2013 চনৰ ৰাষ্ট্ৰীয় ফিল্ম বঁটাৰ বাবে শ্ৰেষ্ঠ অভিনেতাৰ পুৰস্কাৰ পাইছে। চিনেমাখনৰ নিৰ্দেশক কোন আছিল ?

‘পান সিং তোমৰ’ ছবিত মুখ্য চৰিত্ৰে অভিনয় কৰা ইৰফান খান 2013 সনৰ ৰাষ্ট্ৰীয় চলচিত্ৰ পুৰস্কাৰেৰ শ্ৰেষ্ঠ অভিনেতাৰ পুৰস্কাৰ পান। ছবিটিৰ নিৰ্দেশক কে ?

(A) Tigmanshu Dhulia (B) Vikram Gokhale (C) Anurag Basu (D) Sanjay Leela Bansali

টিমাংশ ঢুলীয়া

বিক্ৰম গোখলে

অনুৰাগ বাসু/অনুৰাগ বাসু

সঞ্জয় লীলা বাঞ্চালী/সঞ্জয় লীলা বন্সালী

40 The Prime Minister of India, at the time of his/ her appointment

ভাৰতৰ প্ৰধান মন্ত্ৰী নিযুক্তিৰ সময়ত তেওঁ। / ভাৰতৰ প্ৰধান মন্ত্ৰীৰ নিযুক্তিৰ সময়ত তিনি

(A) need not necessarily be a member of one of the Houses of the Parliament but must become a member of one of the Houses within six months

কোনো এখন সদনৰে সদস্য হোৱা জৰুৰী নহয়, কিন্তু আগন্তুক ছমাহৰ ভিতৰত যি কোনো সদনৰ সদস্য হোৱাটো বাধ্যতামূলক
কোন একটি সদনের সদস্য হওয়া জৰুৰী নয়, কিন্তু আগামী ছয়মাসের ভিতর যে কোন সদনের সদস্য হওয়া বাধ্যতামূলক

(B) need not necessarily be a member of one of the Houses of the Parliament but must become a member of the Lok Sabha within six months

কোনো এখন সদনৰে সদস্য হোৱা জৰুৰী নহয়, কিন্তু অহা ছয়মাহৰ ভিতৰত লোকসভাৰ সদস্য হোৱাটো বাধ্যতামূলক
কোন একটি সদনের সদস্য হওয়া জৰুৰী নয়, কিন্তু আগামী ছয়মাসের ভিতর লোকসভার সদস্য হওয়া বাধ্যতামূলক

(C) must be a member of one of the Houses of the parliament

যি কোনো সদনৰ সদস্য হোৱাটো বাধ্যতামূলক / যে কোনো সদনের সদস্য হওয়া বাধ্যতামূলক

(D) must be a member of the Lok Sabha

লোকসভাৰ সদস্য হোৱাটো বাধ্যতামূলক / লোকসভাৰ সদস্য হওয়া বাধ্যতামূলক

General English

41. I would rather you by train.

(A) go (B) went (C) would go (D) had better go

42. You, he and I will have a party tonight.

(A) I, you and he (B) He, I and you (C) I, he and you (D) The given sentence is correct.

43. The police to solve the mystery.
 (A) is trying (B) are trying (C) has been trying (D) has tried
44. The teaching of Muhammad, the prophet brought ----- social enlightenment among the Muslims.
 (A) about (B) in to (C) over (D) with
45. Summer has and the days are getting warm.
 (A) set out (B) set off (C) set up (D) set in
46. All employees are kindly requested to from smoking in the presence of customers.
 (A) stop (B) restrain (C) refrain (D) restrict
47. He would not the details but hinted that he knew who the murderer was.
 (A) say (B) tell (C) divulge (D) reveal
48. Never put till tomorrow what you can do today.
 (A) Down (B) out (C) in (D) off
49. I look forward _____ you again.
 (A) to meet (B) to meeting (C) for meeting (D) at meeting
50. It's time we _____ some employment for ourselves.
 (A) find. (B) have found. (C) must find. (D) found
51. Use your commonsense , ----- ?
 (A) will you ? (B) won't you ? (C) can't you ? (D) don't you ?
52. A **coterie** is -----
 (A) A circle or set of persons having exclusive interests. (B) A group of common women
 (C) Gathering of spectators (D) Herd of deer
53. A **Confidant** is -----
 (A) Confident (B) Sure (C) Trusted with secrets (D) Definite

If the following sentence **is changed to active voice** it will read like :

54. " **The captive was bound to a tree**"
 (A) They bind the captive to a tree. (B) They bind the captive on a tree.
 (C) They bound the captive to a tree. (D) They were binding the captive to a tree.
55. " **I was asked my name**".
 (A) They asked my name (B) They asked me my name.
 (C) My name asked by I (D) My name was asked by somebody.

If the following sentence **is changed to passive voice** it will read like :

56. "**We expect good news.**"
 (A) Good news is expected (B) Good news are expected

57. " I will have finished the work by tomorrow".

- (A) This work will be finished by tomorrow (B) This work will have been finished tomorrow.
(C) This work will have been finished by tomorrow. (D) This work shall be finished tomorrow.

If the following sentence is changed to indirect narration, it will read like :

58. " He said to her, " Don't read so fast."

- (A) He requested her not to read so fast. (B) He ordered her not to read so fast.
(C) He told her not to read so fast. (D) He advised her don't read so fast.

If the following sentence is changed to direct narration, it will read like :

59. "He said that he would not have to write that essay."

- (A) He said, " I needn't write this essay". (B) He said, " I should not write this essay".
(C) He said, " I don't have to write this essay". (D) He said, I must not write this essay".

60. Pick out the correct sentence:

- (A) This is a news to me (B) This is a news from me
(C) This is news to me (D) This is news by me.

61. (A) You must revise your answer sheet again. (B) You should revise your answer sheet again.
(C) You ought to revise your answer sheet again. (D) You must revise your answer sheet.

Choose the word that is *most nearly the same in meaning* as the word printed on top of each question below :

62. **TRANSIENT**

- (A) lasting (B) enduring (C) fleeting (D) immortal

63. **TACITURN**

- (A) extrovert (B) garrulous (C) loquacious (D) reticent

64. **STALEMATE**

- (A) compromise (B) deadlock (C) dilemma (D) settlement

65. **ASTUTE**

- (A) shrewd (B) unwise (C) dishonest (D) inexplicable

Choose the word that is *opposite in meaning* to the word printed on top of each question below :

66. **PERPETUAL**

- (A) Continuous (B) Irregular (C) Durable (D) Instantaneous

67. **STARTLED**

- (A) Amused (B) Astonished (C) Relaxed (D) Pleased.

68. **MYOPIC**

- (A) Intelligent (B) Farsighted (C) Blind (D) Selfish

Find the odd one from among the following choices :

69. (A) chick (B) puppy (C) calf (D) pony

70. (A) hat (B) helmet (C) turban (D) veil

71. The likeness or representation of a person, made of cardboard, straw etc is :
 (A) Statue (B) replica (C) effigy (D) portrait.
72. One who makes and sells cushions and covers for chairs, motor-car seats is called
 (A) cushioner (B) haberdasher (C) upholster (D) huckster
73. One who runs away from justice or the law is called a :
 (A) fugitive (B) bohemian (C) platonic (D) epicure

Substitute the underlined phrase by a suitable word from among the given choices in the following two sentences.

74. The study of insects was a most fascinating pursuit for him.
 (A) anthropology (B) zoology (C) etymology (D) entomology
75. Pt. Jawaharlal Nehru, like Dr Radhakrishnan, was a great lover of books.
 (A) literate (B) bibliophile (C) bookworm (D) librarian.
76. 'Face' is related to 'Expression' in the same way as 'Hand' is related to :
 (A) handshake (B) waving (C) work (D) gesture
77. Sports is related to 'Logo' in the same way as 'Nation' is related to :
 (A) anthem (B) emblem (C) icon (D) flag
78. **Marathon** is related to **Race** in the same way as **Hibernation** is related to :
 (A) winter (B) sleep (C) dream (D) reproduction

In the following two questions four words are given out of which three are same in one way and one is different from the others. Select the odd one.

79. (A) green (B) violet (C) brown (D) yellow
80. (A) artery (B) aurum (C) auricle (D) aorta

Aptitude & Reasoning

81. The total of the ages of Amar, Akbar and Anthony is 80 years. What was the total of their ages three years ago?
 অমৰ, আকবৰ আৰু এন্থনীৰ মুঠ বয়স ৪০ বছৰ। তিনি বছৰ আগতে সিহঁতৰ মুঠ বয়স কিমান আছিল ?
 অমৰ, আকবৰ এবং এন্টনীর মোট বয়স ৪০ বছর। তিন বছর আগে ওদের মোট বয়স ছিল ?
 (A) 71 years (B) 72 years (C) 74 years (D) 77 years
 ৭১ বছৰ / বছর ৭২ বছৰ / বছর ৭৪ বছৰ / বছর ৭৭ বছৰ / বছর
82. Pointing to a photograph of a boy Suresh said, "He is the son of the only son of my mother." How is Suresh related to that boy ?
 ল'ৰা এজনৰ ফটো লৈ আঙুলিয়াই দি সুৰেশে কলে, সি মোৰ মৰ একমাত্ৰ ল'ৰাৰ একমাত্ৰ ল'ৰা। সুৰেশৰ ল'ৰাটোৰ লগত সম্পৰ্ক কি ?
 একটি ছেলের ফটোর দিকে আঙুল দিয়ে সুৰেশ বলে “সে আমার মার একমাত্র ছেলের একমাত্র ছেলে।” সুৰেশ ছেলেটির সম্পৰ্কে কি ?
 (A) Brother (B) Uncle (C) Cousin (D) Father

83. Flow: River: Stagnant:

প্রবাহিত : নদী : স্তব্দ :

(A) Rain

বৰষুণ / বৃষ্টি

(B) Stream

নিজৰা / ঝৰণা

(C) Pool

জলাশয় / বিল

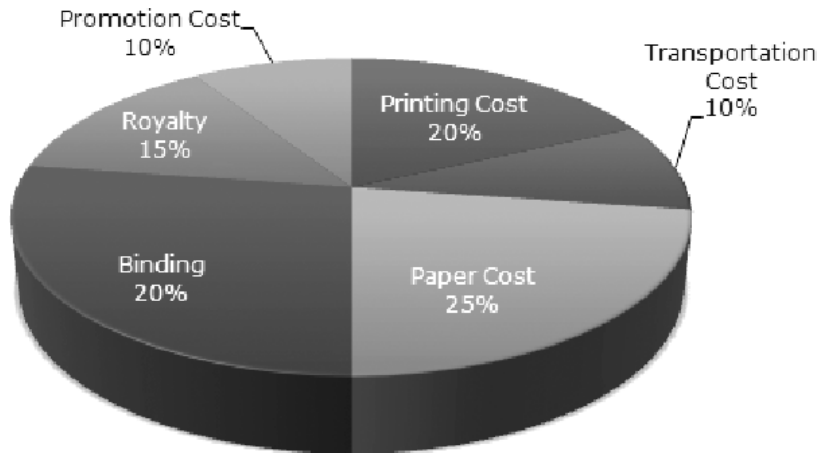
(D) Canal

নলা / খাল

84. The following pie-chart shows the percentage distribution of the expenditure incurred in publishing a book. Study the pie-chart and the answer the questions based on it.

তলত দিয়া পাই চিত্ৰই এখন গ্ৰন্থ প্ৰকাশকৰ খৰচবোৰ শতাংশত দেখুৱাইছে। পাই চিত্ৰটো অধ্যয়ন কৰি প্ৰশ্নসমূহৰ উত্তৰ দিয়া।

নীচে একটি গ্ৰন্থ প্ৰকাশকৰ খৰচৰ শতাংশ পাই চিত্ৰৰ দ্বাৰা দেখানো হল। পাই চিত্ৰটি অধ্যয়ন কৰে উত্তৰ দাও।



If for a certain quantity of books, the publisher has to pay Rs. 30,600 as printing cost, then what will be amount of royalty to be paid for these books?

যদি কিছু সংখ্যক কিতাপৰ বাবে প্ৰকাশকে 30,600 ছপা খৰচ কৰে, তেন্তে কিতাপৰ স্বত্বৰ (royalty) বাবে কিমান টকা দিব ?

যদি কিছু সংখক বহুইয়ৰ জন্য প্ৰকাশক 30,600 টকা খৰচ কৰে, তৰে বহুইয়ৰ স্বত্বৰ জন্য কত টকা দিব ?

(A) ₹ 19,450

(B) ₹ 21,200

(C) ₹ 22,950

(D) ₹ 26,150

85. A sum of money at simple interest amounts to Rs. 815 in 3 years and to Rs. 854 in 4 years. The sum is:

যদি এটি মূলধনৰ তিনি বছৰত সৰলসূত 815 টকা আৰু চাৰি বছৰত 845 টকা হলে মূলধনৰ পৰিমাণ কিমান ?

যদি একটি মূলধনৰ তিন বছৰেৰ সৰলসূত 815 টকা এবং চাৰ বছৰেৰ 845টাকা হলে মূলধনৰ পৰিমাণ কত ?

(A) ₹ 650

(B) ₹ 690

(C) ₹ 698

(D) ₹ 700

86. 39 persons can repair a road in 12 days, working 5 hours a day. In how many days will 30 persons, working 6 hours a day, complete the work?

39 জন মানুহে দৈনিক 5 ঘণ্টাকৈ কাম কৰি 12 দিনত এটি পথ মেৰামতি কৰে। যদি 30 জন মানুহে দৈনিক 6 ঘণ্টাকৈ কাম কৰে তেন্তে কিমান দিনত কামটো সম্পূৰ্ণ কৰিব ?

39 জন লোক দৈনিক 5 ঘণ্টা কাজ কৰে 12 দিনে একটি পথ মেৰামত কৰে। যদি 30 জন লোক দৈনিক 6 ঘণ্টা কৰে কাজ কৰে, তৰে কত দিনে কাজটি সম্পূৰ্ণ হৰে ?

87. A bear in Greenland walks south for one kilometer, then it walks west for one kilometer, then it walks north for one kilometer and ends up at the same point from which it started. What color was the bear?
 এটা ভালুক গ্ৰীণলেণ্ডত দক্ষিণলৈ এক কিলো মিটাৰ যোৱাৰ পিছত এক কিলোমিটাৰ পশ্চিমলৈ গ'ল। আকৌ উত্তৰলৈ এক কিলোমিটাৰ যোৱাৰ পিছত আকৌ আৰম্ভ কৰা ঠাইতে উপনীত হ'ল। ভালুকটোৰ ৰং কি আছিল ?
 একটি ভালুক গ্ৰীণলেণ্ডে দক্ষিণদিকে এক কিলোমিটাৰ গেল, তাৰপৰ পশ্চিমদিকে এক কিলোমিটাৰ গেল, আবার উত্তৰদিকে এক কিলোমিটাৰ যায় এবং শেষে শুরু কৰা স্থানে উপনীত হয়। ভালুকটোৰ ৰং কি ছিল ?
- (A) grey (B) black (C) white (D) Blue
 ধোঁৱা বৰণীয়া / ধূসৰ ক'লা / কালো বগা / সাদা নীলা / নীল

88. Find the odd man out... 6, 9, 15, 21, 24, 28, 30
 অমিলটো বাচি উলিওৱা : 6, 9, 15, 21, 24, 28, 30 / অমিলটি বেছে নাও : 6, 9, 15, 21, 24, 28, 30
 (A) 28 (B) 21 (C) 24 (D) 30

89. Choose the appropriate answer to complete the following sentence:
 তলৰ বাক্যশাৰী সম্পূৰ্ণ কৰিবলৈ উপযুক্ত শব্দটো বাছি উলিওৱা : / নীচৰ বাক্যটি সম্পূৰ্ণ কৰতে উপযুক্ত শব্দ বেছে নাও :
 Medicine is to illness as law is to _____
- (A) Discipline (B) Anarchy (C) Treason (D) Etiquette
 নিয়মানুবর্তিতা / নিয়মানুবর্তিতা অৰাজকতা / অৰাজকতা দেশদ্রোহিতা শিষ্টাচাৰ / শিষ্টাচাৰ

90. Larry's father has five sons, viz. Ten, Twenty, Thirty, Forty... Guess what would be the name of the fifth?
 লেৰীৰ দেউতাকৰ পাঁচজন ল'ৰা আছিল। এজনৰ নাম Ten, Twenty, Thirty, আৰু এজনৰ নাম Forty হলে পঞ্চমজনৰ নাম কি ?
 লেৰীৰ পিতাৰ পাঁচটি ছেলে ছিল। ওদেৰ নাম ক্ৰমে Ten, Twenty, Thirty, ও Forty হলে পঞ্চমটিৰ নাম কি হৰে ?
 (A) Fifty, (B) Sixty (C) Seventy (D) None of these
 এটাও নহয়/একটিও নয়

91. You have a cup placed on a table. You are sitting facing the North and the cup is facing towards the South. On which side is the cup's handle?
 টেবুলত এটি কাপ আছে। তুমি যদি উত্তৰ দিশত আছা আৰু কাপটো দক্ষিণ দিশত আছে। তেন্তে কাপৰ হেণ্ডেল কোন দিশত আছে ?
 তুমি একটি কাপ টেবিলে রাখলে। তুমি যদি উত্তৰ দিকে আৰু কাপটি দক্ষিণ দিকে থাকে, তাহলে কাপেৰ হেণ্ডেল কোন দিকে থাকবে ?
 (A) North (B) west (C) inner side (D) outer side
 উত্তৰ / উত্তৰ পশ্চিম ভিতৰৰ ফালে/ভিতৰেৰ দিকে বাহিৰৰ ফালে / বাহিৰেৰ দিকে

92. (I) Police resorted to lathi-charge to disperse the unlawful gathering of large number of people.
 পুলিচে নীতি বহিৰ্ভূত ভাবে একত্ৰিত হোৱা বিশাল জনতাক চত্ৰভংগ দিবলৈ লাঠী চাৰ্জ কৰিছিল।
 পুলিশ নীতি বহিৰ্ভূত ভাবে একত্ৰিত হওয়া বিশাল জনতাকে ছত্ৰভঙ্গ কৰতে লাঠীচাৰ্জ কৰিছিল।
 (II) The citizens' forum called a general strike in protest against the police atrocities.
 নাগৰিক মঞ্চই পুলিচৰ অত্যাচাৰৰ বিৰুদ্ধে সাধাৰণ ধৰ্মঘটৰ আহ্বান দিছিল।
 নাগৰিক-মঞ্চ পুলিচৰ অত্যাচাৰেৰ বিৰুদ্ধে ধৰ্মঘটৰ আহ্বান দেয়।
- (A) Statement I is the cause and statement II is its effect.
 ১ম বক্তব্য হল কাৰণ আৰু ২য় বক্তব্য ইয়াৰ পৰিণতি / ১ম বক্তব্য হল কাৰণ এবং ২য় বক্তব্য ইয়াৰ পৰিণতি।
 (B) Statement II is the cause and statement I is its effect.
 ২য় নং বক্তব্য কাৰণ আৰু ১ম বক্তব্য ইয়াৰ পৰিণতি / ২য় নং বক্তব্য কাৰণ এবং ১ম বক্তব্য ইয়াৰ পৰিণতি
 (C) Both the statements I and II are independent causes.
 ১ম আৰু ২য় দুয়োটা বক্তব্যই সম্পূৰ্ণ বেলেগ / ১ম এবং ২য় দুটি বক্তব্যই সম্পূৰ্ণ আলাদা।
 (D) Both the statements I and II are effects of independent causes.
 ১ম আৰু ২য় দুয়োটাই সম্পূৰ্ণ বেলেগ কাৰণৰ পৰিণতি / ১ম আৰু ২য় দুটিই সম্পূৰ্ণ আলাদা কাৰণেৰ পৰিণতি
 (E) Both the statements I and II are effects of some common cause.

93. Marathon is to race as hibernation is to

যদি মাৰাথন দৌৰ হয় তেন্তে শীতনিদ্ৰা হ'ব। / যদি 'মাৰাথন' হয় 'দৌড়' তৰে 'শীতনিদ্ৰা'হবে

- (A) winter (B) bear (C) dream (D) sleep
শীতকাল ভালুক সপোন / স্বপ্ন নিদ্ৰা

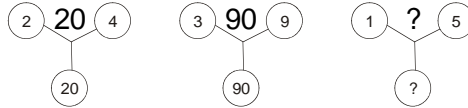
94. Which word does NOT belong with the others?

তলৰ কোনটো নিমিলা শব্দ : / অমিল শব্দ বেছে নাও :

- (A) tire (B) steering wheel (C) engine (D) car
ক্লান্ত হোৱা / ক্লান্ত হওয়া ষ্টীয়াৰিং হইল / স্টীয়াৰিং হইল ইঞ্জিন মটৰ গাড়ী / মটৰ গাড়ী

95. Which number will replace the question mark ?

প্ৰশ্নবোধক চিনৰ ঠাইত বহিবলগা সংখ্যাটো কি ? / প্রশ্নবোধক চিহ্নে ৩সানো সংখ্যাটি হ'ব ? 5



- (A) 75 (B) 26 (C) 25 (D) 20

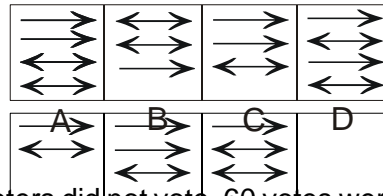
96. In the following question which one of the Answer Figure should come after the Problem Figure if the series is continued ?

তলত দিয়া সমস্যা চিত্ৰটো ক্ৰমান্বয়ে বঢ়াই গ'লে উত্তৰ চিত্ৰৰ কোনটো সমস্যা চিত্ৰৰ শেষত বহিব ?

নীচে দেওয়া সমস্যাচিত্ৰ ক্ৰমান্বয়ে বেড়ে গেলে উত্তৰ চিত্ৰৰ কোন চিত্ৰ সমস্যাচিত্ৰৰ খালি স্থানে বসবে ?

Problem Figures (সমস্যা চিত্ৰ)

Answer Figures (উত্তৰ চিত্ৰ / উত্তৰ চিত্ৰ)



97. There were two candidates in an election, 10% of the voters did not vote, 60 votes were declared invalid. The elected candidate got 308 votes more than his opponent. If the elected candidate got 47% of the total votes, how many votes did each candidate get ?

দুজন সদস্যই প্ৰতিদ্বন্দ্বিতা কৰা এটা নিৰ্বাচনত 10% ভোটাৰে ভোটাধিকাৰ সাব্যস্ত কৰা নাই, আৰু 60 টা ভোট অযোগ্য বুলি ঘোষণা কৰা হয়। বিজয়ী প্ৰাৰ্থীজনে বিজীত প্ৰাৰ্থীতকৈ 308 টা ভোট বেছি পায়। যদি বিজয়ী প্ৰাৰ্থীজনে মোট ভোটৰ 47% ভোট পায় তেন্তে প্ৰজিন প্ৰাৰ্থীয়ে গাইপ্ৰতি কিমান ভোট পাইছিল ?

দুজন সদস্য প্ৰতিদ্বন্দ্বিতা কৰা একটি নিৰ্বাচনে 10% ভোটাৰ ভোটাধিকাৰ সাব্যস্ত কৰে না এবং 60 টি ভোট অযোগ্য বলে ঘোষণা কৰা হয়। বিজয়ী প্ৰাৰ্থীজন বিজীত প্ৰাৰ্থী থেকে 308 টি ভোট বেশী পায়। যদি বিজয়ী প্ৰাৰ্থী মোট ভোটৰ 47% পায়, তৰে দুজন প্ৰাৰ্থী জনপ্ৰতি কতটি ভোট পায় ?

- (A) 2316, 2012 (B) 2629, 2324 (C) 2871, 2575 (D) 2914, 2606

98. If NUMERICAL is written as MVLFQJBBK, then how would ASTROLOGY be written in this code ?

যদি NUMERICAL শব্দটো MVLFQJBBK হিচাপে লিখা হয়, তেন্তে ASTROLOGY শব্দটো কিদৰে লিখিব পাৰো ?

যদি NUMERICAL শব্দটি MVLFQJBBK হিসাবে লেখা হয়, তবে ASTROLOGY শব্দটি কিভাবে লিখতে পারি ?

99. A, B, C, D, E and F are sitting in a row facing North. A is neighbour of B and D. E is the neighbour of C and F. D is the neighbour of C. How many members are there between A and E ?

A, B, C, D, E আৰু F একেটা শাৰীত উত্তৰমুৱাকৈ বহি আছে। A হৈছে B আৰু D ৰ প্রতিবেশী। E হৈছে C আৰু F ৰ প্রতিবেশী। D হৈছে C ৰ প্রতিবেশী। A আৰু E ৰ মাজত থকা সদস্যৰ সংখ্যা কিমান।

A, B, C, D, E এবং F একটি শাৰীতে উত্তৰদিকে মুখ দিয়ে বসে আছে। A হল B ও D এর প্রতিবেশী, E হল C ও F এর প্রতিবেশী, D হল C এর প্রতিবেশী। A এবং E এর মধ্যে থাকা সদস্য সংখ্যা কত ?

(A) 1 (B) 2 (C) 3 (D) 4

100. All the six members of a family A,B,C,D,E & F are travelling together. B is the son of C but C is not the mother of B. A & C are a married couple. E is the brother of C. D is the daughter of A. F is the brother of B. How many male members are there in the family ?

এটা পৰিয়ালৰ ছয়জন সদস্য ক্ৰমে A,B,C,D,E আৰু F য়ে একেলগে ফুৰিবলৈ গৈছে। B হল C ৰ পুতেক কিন্তু 'C' B ৰ মাতৃ নহয়। A আৰু C স্বামী-স্ত্ৰী। E হৈছে C ৰ ভাইটি। 'D' A ৰ জীয়েক। F হৈছে B ৰ ভাইটি। তেন্তে পৰিয়ালটোত কিমানজন পুৰুষ সদস্য আছে ?

একটি পৰিবাৰেৰ ছয়জন সদস্য ক্ৰমে A,B,C,D,E ও F একসাথে ঘূৰতে যায়। B হল C এর ছেলে কিন্তু 'C' এর মা B নয়। A ও C স্বামী-স্ত্ৰী। E হল C এর ভাই। 'D' হল A-এর কন্যা। F হল B এর ভাই। পৰিবাৰটিতে কতজন পুৰুষ সদস্য আছে ?

(A) 1 (B) 2 (C) 3 (D) 4

XXXXXX