

Ajmal National Talent Search Examination, 2009

Class : VI



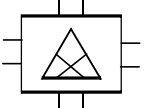
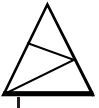
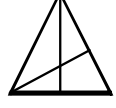
Time/সময় : 2 hours (ঘন্টা)

Full Marks/ মুঠ নম্বৰঃ (25+25+25+25)=100

INSTRUCTIONS / নিৰ্দেশাৱলী :

1. Attempt All Questions. / প্ৰত্যেকটো প্ৰশ্নৰ উত্তৰ কৰা।
2. There are four options to every question. Choose the correct option by putting any one of **a, b, c** or **d**, in the box / প্ৰতিটো প্ৰশ্নৰ চৰিটা বিকল্প উত্তৰ দিয়া আছে। শুদ্ধ উত্তৰটো বাছি উলিয়াই কাষত থকা বাকচত **a, b, c** বা **d** লিখিবা।

General Knowledge / সাধাৰণ জ্ঞান

1. If BANK is coded as DCPM, how will BOOK be coded? / যদি BANK ক DCPM বুলি লিখা হয় তেন্তে BOOK লিখা হ'ব—
 a) MPGK b) DQQM c) DQQN d) NMCO
2. Complete the series : 2, 5, 7, 12, 15, 17, 22, _____ ? / শৃংখলাটো সম্পূৰ্ণ কৰা
 a) 25 b) 26 c) 27 d) 28
3. Parrot is to Bird as Lizard is to / যদি Parrot পক্ষী হয় তেন্তে Lizard হ'ব—
 a) Wall / ৰাল b) Snake / সাপ c) Reptile / সৰিসৃপ d) Poison / বিষ
4.  Complete the series / শৃংখলাটোৰ প্ৰশ্নবোধক ঠাইত কি হ'ব?
 a)  b)  c)  d) 
5. Which number button will be pressed first to type 'umbrella' on a mobile phone? / মোবাইল ফোনত 'Umbrella' টাইপ কৰিবলৈ প্ৰথমতে কোনটো নম্বৰ বুটাম টিপিবা?
 a) 3 b) 6 c) 8 d) 9
6. The Headquarter of N.E. Frontier Railway is at / পূৰ্বোত্তৰ সীমান্ত ৰেলৱেৰ মুখ্য কাৰ্যালয় ক'ত?
 a) Lucknow / লক্ষ্ণৌ b) Maligaon / মালিগাঁও c) Howrah / হাওৰা d) Shillong / শিলং
7. 'Chak de India' is a film based on the game of— / 'চকদে ইণ্ডিয়া' কথাছবি খন কি খেলৰ ওপৰত নিৰ্মিত?
 a) Cricket / ক্ৰিকেট b) Hockey / হকী c) Football / ফুটবল d) Kabadi / কাবাদী
8. Manas wild life Sanctuary is in the district of / মানস অভয়াৰণ্য কোন জিলাত অৱস্থিত?
 a) Baksa / বাক্সা b) Barpeta / বৰপেটা c) Morigaon / মৰিগাঁও d) Jorhat / যোৰহাট
9. 'Roland Garros' stadium in France is a venue for / ৰোঁলা-গেৰোঁ, ফ্ৰান্সৰ এই ষ্টেডিয়ামখন কি খেলৰ বাবে—
 a) Cricket / ক্ৰিকেট b) Football / ফুটবল c) Lawn Tennis/লন টেনিছ d) Hockey/ হকী

10. The most literate district of India according to 2001 census is / ২০০১ চনৰ জৰীপ অনুযায়ী ভাৰতৰ সৰ্বাধিক শিক্ষিত জিলা হ'ল—
 a) Aizawl in Mizoram / আইজল b) Kottayam in Kerala / কট্টায়াম
 c) Mahe in Puducherry / মাহে d) Ernakulom in Kerala / ইৰনাকুলাম
11. The film 'Slumdog Millionaire' is based on the story of the slum area of the city of / 'শ্লাম ডগ মিলিয়নিয়াৰ' চিনেমাখন কোন চহৰৰ শ্লাম এলেকাৰ ওপৰত নিৰ্মিত?
 a) London / লণ্ডন b) Mumbai / মুম্বাই c) Delhi / দিল্লী d) Newyork / নিউয়ৰ্ক
12. ASI stands for: / ASI মানে কি?
 a) Asiatic Society of India / এচিয়াটিক চোচাইটি অৱ ইণ্ডিয়া
 b) Asian Students Institution / এচিয়ান ষ্টুডেন্টছ ইনষ্টিটিউশ্বন
 c) Archaeological Survey of India / আৰ্কিয়োলজিকেল চাৰ্ভে অৱ ইণ্ডিয়া
 d) None of these / এটাও নহয়
13. The title 'Sher - e - Punjab' was given to: / শ্বেৰ-এ-পাঞ্জাৰ উপাধি কাক দিয়া হৈছিল?
 a) Lala Lajpat Rai / লালা লাজপত ৰায় b) Bhagat Singh / ভগত সিং
 c) Rajguru / ৰাজগুৰু d) None of them / ইয়াৰে এজনো নহয়
14. Who discovered planetary motion? / নক্ষত্ৰৰ গতি কোনে আৱিষ্কাৰ কৰিছিল?
 a) Copernicus / কপাৰনিকাছ b) Sir Issac Newton / ছাৰ আইজাক নিউটন
 c) Alva Addision / আলভা এডিচন d) Geleleo / ফেলিচিও
15. 1 foot equals: / এক ফুট = কিমান?
 a) 10 inches (ইঞ্চি) b) 12 inches (ইঞ্চি) c) 14 inches (ইঞ্চি) d) None of these / এটাও নহয়
16. The Tarapur Atomic power station (TAPS) is in / তাৰাপুৰ আনবিক শক্তি ষ্টেচন ক'ত?
 a) Gujarat / গুজৰাট b) Karnataka / কৰ্ণাটক c) Maharashtra / মহাৰাষ্ট্ৰ d) Rajasthan / ৰাজস্থান
17. Which of the following is not a classification of computer? / তলৰ কোনটো কম্পিউটাৰৰ শ্ৰেণীভুক্ত নহয়?
 a) Analog Computer / এনালগ কম্পিউটাৰ b) Hybrid Computer / হাইব্ৰীড কম্পিউটাৰ
 c) Electronic Computer / ইলেকট্ৰনিক কম্পিউটাৰ d) Super Computer / চুপাৰ কম্পিউটাৰ
18. 'World Cup Football' in 2010 will be held in / ২০১০ চনৰ ফুটবল বিশ্বকাপ ক'ত অনুষ্ঠিত হ'ব?
 a) England / ইংলেণ্ড b) South Africa / দক্ষিণ আফ্ৰিকা
 c) Sweden / সুইডেন d) Brazil / ব্ৰাজিল
19. The playing time of 'National Anthem' is / ৰাষ্ট্ৰীয় সংগীত কিমান সময়ৰ ভিতৰত গাব লাগে?
 a) Approx 48 sec / 48 চেকেণ্ড b) Approx 50 sec / 50 চেকেণ্ড
 c) Approx 52 sec / 52 চেকেণ্ড d) Approx 54 sec / 54 চেকেণ্ড
20. 'Rajmala' is the chronicle of: / 'ৰাজমালা' কাৰ ঐতিহাসিক বৃত্তান্ত?
 a) Koch Kings / কোচ ৰজা b) Tripuri Kings / ত্ৰিপুৰী ৰজা
 c) Ahom Kings / আহোম ৰজা d) Manipuri Kings / মনিপুৰী ৰজা

21. Which planet is called 'Earth's Twin'? / কোন গ্রহক পৃথিবীৰ যমজ বুলি কোৱা হয় ?
 a) Mercury / বুধ গ্রহ b) Venus / শুক্র c) Mars / মঙ্গল d) Jupiter / বৃহস্পতি
22. 'Bharat Ratna' in 2008 was awarded to / ২০০৮ চনত কালৈ 'ভাৰত ৰত্ন' দিয়া হৈছিল ?
 a) Abhinav Bindra / অভিনৱ বিন্দ্রা b) Bhupen Hazarika / ভূপেন হাজৰিকা
 c) Bhimsen Joshi / ভীমসেন যোশী d) Manmohan Singh / মনমোহন সিং
23. Which combination of keys in a computer key pad are used to save programmes? / কম্পিউটাৰত প্ৰগ্ৰাম ছেভ (সঞ্চয়) কৰিবলৈ কি বুটাম ব্যৱহাৰ কৰিব ?
 a) Ctrl + S b) Shift + S c) Ctrl + V d) Shift + V
24. The treaty of Yandaboo was signed between the Burmese and / ইয়াণ্ডাবু সন্ধি বাৰ্মা আৰু কাৰ মাজত সম্পাদন হৈছিল ?
 a) The British / ব্ৰিটিছ b) The Ahom / আহোম c) Singphoos / চিংফৌ d) None of these / এটাও নহয়
25. Murray - Darling river flows through / Murry Darling (মুৰী ডাৰ্লিং) নদীখন কোন দেশৰ মাজেৰে বৈ গৈছে ?
 a) Spain / স্পেইন b) Australia / অষ্ট্ৰেলিয়া
 c) New Zealand / নীউজিলেণ্ড d) Zimbabwe / জিম্বাৱে

General English / সাধাৰণ ইংৰাজী

Only one option out of the four given, i.e [(a) , (b) , (c) and (d)] applies correctly to the blank space. Put the correct option in the box on the right hand side.

26. I wish I _____ taller.
 a) had been b) could be c) would be d) were
27. I took that person _____ a thief .
 a) as b) after c) to d) for
28. The hens have _____ no eggs today.
 a) lain b) lied c) lay d) laid
29. You may be surprised _____ the news
 a) by b) with c) at d) upon
30. His _____ for money will one day defame him.
 a) avarice b) temptation c) greed d) veracity
31. We eat so that we _____ live.
 a) should b) may c) must d) will
32. A student who runs away from the class or school without permission is a
 a) delinquent b) sceptic c) juvenile d) truant.

33. Bees live in beehives, or are kept in the _____.
- a) apiary b) aviary c) cell d) coop.
34. The feminine gender for stallion is _____
- a) mare b) horse c) foal d) colt
35. The Latin phrase *inter alia* means
- a) international ally b) internal friendship c) among other things d) None of these
36. The adjective connected with the word *cat* is:
- a) ovine b) vulpine c) feline d) lupine.
37. The word correctly spelled in the following options is:
- a) coccoa b) cocoa c) coacoa d) cocoae
38. Water _____ at temperatures below 0 degree C.
- a) solidises b) solidates c) ensolids d) solidifies
39. DOG is to FAITHFULNESS as FOX is to _____
- a) cleverness b) intelligence c) cunningness d) devotion
40. BACTERIA is to ILLNESS as _____ is to EXPLOSION.
- a) bomb b) explosive c) fire d) ammunition.

In the following question, a sentence has been given in active voice. Select the choice which best expresses the sentence in passive form.

41. Darjeeling grows tea.
- a) Let the tea be grown in Darjeeling b) Tea is being grown in Darjeeling
- c) Tea grows in Darjeeling d) Tea is grown in Darjeeling.
42. Who teaches you English?
- a) English is taught by whom? b) By whom will you be taught English?
- c) By whom were you taught English? d) By whom are you taught English?

In the following question, a question has been given in Direct Speech. Select the choice which best expresses the sentence in Indirect speech.

43. He said, "I have often told you not to waste your time".
- a) He said that he had often suggested to him not to waste his time.
- b) He told that he had often told him not to waste his time.
- c) He said that he had often told not to waste your time.
- d) He said that he had often told him not to waste his time..

The following sentences are divided in to three parts and each part is underlined and marked a,b,c. Only one part contains an error. Identify the error part. If there is no error, mark it (d)..

44. The reason for a his failure is because b he did not work hard. c No error. d
45. A group of friends a want to visit b the new plant as early as possible. c No error. d
46. I have not a played cricket b since I have left school. c No error. d

In the following sentences you are required to find synonyms or words having the same meaning for the *italicized* word in the sentence. Choose the option which best expresses the same meaning in the context.

47. He was *admonished* for the consequences.
a) scolded b) praised c) rewarded d) admired.
48. The prisoner made an *abortive* attempt to escape from the jail.
a) illegal b) futile c) courageous d) furtive

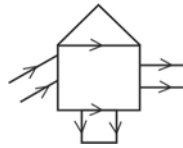
In the following sentences you are required to find antonyms or words having opposite meaning for the *italicized* word in the sentence. Choose the option which best expresses the opposite meaning.

49. His *timidity* proved to be costly.
a) arrogance b) cowardliness c) boldness d) self-confidence.
50. Earthquakes are frequent in Japan.
a) few b) rare c) regular d) extinct.

General Mathematic / সাধাৰণ গণিত

51. If the radius of a circle is increased 100%, the area is increased: (এটা বৃত্তৰ ব্যাসার্ধ 100% বৃদ্ধি হ'লে ইয়াৰ কালি বৃদ্ধি হ'ব--)
a) 100% b) 200% c) 300% d) 400%
52. Predecessor of natural number 1 (স্বাভাৱিক সংখ্যা 1 ৰ পূৰ্বৱৰ্তী সংখ্যাটো হ'ব--)
a) 0 b) 2 c) 10 d) does not exit (নেথাকে)
53. If a and b are two whole numbers, then commutative law is applicable to subtraction if and only if-- (যদি a আৰু b দুয়ো পূৰ্ণ সংখ্যা হয় তেন্তে বিয়োগৰ ক্রম বিনিময় বিধি প্রযোজ্য হ'ব যদিহে--)
a) $a = b$ b) $a \neq b$ c) $a > b$ d) $a < b$

54. If the dividend and divisor have like signs then the quotient will be— (যদি ভাজ্য আৰু ভাজক একে প্ৰকৃতিৰ হয় তেন্তে ভাগফলৰ প্ৰকৃতি হ'ব—)
- a) Positive (ধনাত্মক) b) Negative (ঋণাত্মক) c) Zero (শূণ্য) d) None (এটাও নহয়)
55. Reciprocal of $2\frac{1}{3}$ is— ($2\frac{1}{3}$ ৰ অন্ব্যোমক হ'ব)
- a) $\frac{7}{3}$ b) $-\frac{7}{3}$ c) $-\frac{3}{7}$ d) $\frac{3}{7}$
56. Simplified value of $2\frac{1}{2} + 3\frac{5}{7} \times \frac{3}{13} - \frac{1}{2} \div 4$ is— ($2\frac{1}{2} + 3\frac{5}{7} \times \frac{3}{13} - \frac{1}{2} \div 4$ ৰ সবলুকৃত মান হ'ব)
- a) $\frac{188}{56}$ b) $-\frac{181}{56}$ c) $-3\frac{13}{56}$ d) $3\frac{13}{56}$
57. The ratio of 60 hrs. to 600 min. is— (60 ঘণ্টা আৰু 600 মিনিটৰ অনুপাত হ'ব)
- a) 3600 : 600 b) 1 : 6 c) 6 : 1 d) 5 : 1
58. Marked price of an article is Rs. 50.00 on which 10% discount is allowed. Then the SP of the article is— (এটা বস্তুৰ ছপামূল্য 50.00 টকা, যদি বস্তুটো 10% বেহাই দিয়া হয় তেন্তে ইয়াৰ বিক্ৰি মূল্য হ'ব—)
- a) Rs. 60 (টকা) b) Rs. 45 (টকা) c) Rs. 55 (টকা) d) Rs. 52 (টকা)
59. The instruments used to construct a line segment are— (এডাল বেখাখণ্ড আঁকিবলৈ ব্যৱহাৰ কৰা আহিলা হ'ল—)
- a) Compass and scale (কম্পাচ আৰু স্কেল) b) Divider and protractor (ডিভাইডাৰ আৰু কোণমাণ যন্ত্ৰ)
- c) Set square and scale (ছেট স্কুয়াৰ আৰু স্কেল) d) None (এটাও নহয়)
60. Which of the following statement is false? (তলৰ কোনটো উক্তি মিছা?)
- a) A line segment has two end points (এটা বেখাখণ্ডৰ দুটা প্ৰান্ত বিন্দু থাকে)
- b) A line has no end points (এটা বেখাৰ কোনো প্ৰান্ত বিন্দু নেথাকে)
- c) A ray has only one end point (বিশ্মিৰ মাত্ৰ এটা প্ৰান্ত বিন্দু থাকে)
- d) None of these (ইয়াৰে এটাও নহয়)
61. Type of angle between the hands of a clock when the time is 5 : 20 is— (5:20 বজা সময়ত ঘড়ীৰ কাটা দুডালৰ মাজৰ কোণটো হ'ব)
- a) Right angle (সম কোণ) b) Straight angle (সৰল কোণ)
- c) Obtuse angle (স্থূল কোণ) d) Acute angle (সূক্ষ্ম কোণ)
62. In the given figure, the number of sets of parallel lines are— (তলত দিয়া চিত্ৰটোত কেই যোৰ সমান্তৰাল বেখা আছে—)



- a) 8 b) 6 c) 4 d) 2

63. Number of exterior angles formed in a triangle— (এটা ত্ৰিভুজত উৎপন্ন হোৱা মুঠ বহিঃকোণৰ সংখ্যা—)
- a) 5 b) 3 c) 6 d) 8
64. Measure of angle $\angle ACD$ in the given figure is— (ওচৰৰ চিত্ৰত $\angle ACD$ ৰ মান হ'ব—)
- a) 130° b) 120° c) 150° d) 115°
65. Longest chord of the circle is called— (বৃত্তৰ আটাইতকৈ দীঘল জ্যাক বোলা হয়—)
- a) Radius (ব্যাসাৰ্দ্ধ) b) Diameter (ব্যাস) c) Chord (জ্যা) d) None (এটাও নহয়)
66. 1 Sq. m. = _____ Sq. cm. (1 বৰ্গ মিঃ = বৰ্গ চেঃমিঃ)
- a) 100 b) 1000 c) 10000 d) 10
67. How many whole numbers are there for which $y \times y = y$ where 'y' is a whole number? (y এটা গোটা সংখ্যা হ'লে $y \times y = y$ ধৰণৰ কিমানটা গোটা সংখ্যা আছে?)
- a) One (এটা) b) Two (দুটা) c) Three (তিনিটা) d) Infinite (অসংখ্য)
68. The number of 6 digit numbers is— (6টা অংকৰে গঠিত মুঠ কিমানটা সংখ্যা আছে?)
- a) 8, 99,999 b) 8,99,998 c) 9,00,000 d) 90,00,000
69. Simplified value of $7 - [7 - \{7 - (7 - \overline{7-7})\}]$ is— ($7 - [7 - \{7 - (7 - \overline{7-7})\}]$ ৰ সৰলকৃত মান হ'ব)
- a) 0 b) 14 c) 7 d) None (এটাও নহয়)
70. Which is the pair of like terms? (তলৰ কোনজোৰৰ সাদৃশ পদ?)
- a) $2ab, 2bc$ b) $bc, 3a$ c) $3a, \frac{cb}{3}$ d) $bc, \frac{cb}{3}$
71. The co-efficient of a^2 in $-7a^2yz$ is— ($-7a^2yz$ ত a^2 ৰ সহগ হ'ব—)
- a) 7 b) -7 c) $-7yz$ d) $7yz$
72. $(-4.80) \div (-32) = ?$
- a) 0.5 b) 0.15 c) 15 d) -15
73. $(-1)^{562} = ?$
- a) 1 b) -1 c) Can not be determined (নিৰ্ণয় কৰিব নোৱাৰি)
- d) None of these (ইয়াৰে এটাও নহয়)

74. The difference between the smallest seven digit number and the largest four digit number is— (সাতটা অংকৰে লিখিব পৰা আটাইতকৈ সৰু সংখ্যা আৰু চাৰিটা অংকৰে লিখিব পৰা আটাইতকৈ ডাঙৰ সংখ্যাৰ পাৰ্থক্য হ'ব—)
- a) 981001 b) 991000 c) 990001 d) 908001
75. If $p = -2$, $q = -1$ and $r = 3$ then the value of $p^2 + q^2 - r^2$ is— (যদি $p = -2$, $q = -1$ আৰু $r = 3$ হয় তেন্তে $p^2 + q^2 - r^2$ ৰ মান হ'ব—)
- a) 0 b) 4 c) -4 d) 8

General Science / সাধাৰণ বিজ্ঞান

76. SI unit of temperature is— / উষ্ণতাৰ SI একক হ'ল—
- a) Kelvin (K) b) Celsius (°C) c) Reumer (°R) d) Fahrenheit (°F)
(কেলভিন K) (ছেলচিয়াচ °C) (ৰিউমাৰ °R) (ফাৰেণহাইট °F)
77. Choose the correct equation— / শুদ্ধ সমীকৰণটো বাছি উলিওৱা—
- a) $Area = \frac{hight}{volume}$ b) $Area = \frac{volume}{height}$ c) $Height = \frac{area}{volume}$ d) $Volume = \frac{area}{height}$
 $\left(\text{কালি} = \frac{\text{উচ্চতা}}{\text{আয়তন}} \right)$ $\left(\text{কালি} = \frac{\text{আয়তন}}{\text{উচ্চতা}} \right)$ $\left(\text{উচ্চতা} = \frac{\text{কালি}}{\text{আয়তন}} \right)$ $\left(\text{আয়তন} = \frac{\text{কালি}}{\text{উচ্চতা}} \right)$
78. As the least count decreases, accuracy of the instrument— / আহিলা এটাৰ লঘিষ্ঠ জোখ কমিলে ইয়াৰ যথার্থতা—
- a) Increases / বাঢ়িব b) Decreases / কমিব
c) Remains constant / একে থাকিব d) Can't say / নাজানো
79. The weight of a body is maximum at— / বস্তু এটাৰ ওজন সৰ্বোচ্চ হয়—
- a) Poles / মেৰুত b) Equator / বিষুব অঞ্চল
c) 100 metres above in the air / 100 মিটাৰ উচ্চতাত d) At the center of the earth / পৃথিৱীৰ কেন্দ্ৰত
80. Which of the following is a repetitive but not a periodic motion? / তলৰ কোনটো পুনৰাবৃত্ত কিন্তু পৰ্যাবৃত্ত গতি নহয় ?
- a) The oscillations of a swing / দোলকৰ দোলন
b) Vibration of the string of a musical instrument / বাধ্যযন্ত্ৰৰ তাঁৰৰ কম্পন
c) Rotation of the Earth around itself / পৃথিৱীৰ ঘূৰ্ণন গতি
d) Pulse of the heart / হৃদস্পন্দন
81. A rocket works on the principle of— / বকেট এটাই কোনটো মূলনীতিৰ ওপৰত কাম কৰে ?
- a) Atmospheric pressure / বায়ুমণ্ডলীয় চাপ b) Steam engine / ভাপ ইঞ্জিন
c) Action and Reaction principle / ক্ৰিয়া আৰু প্রতিক্ৰিয়াৰ নীতি
d) All the above / আটাইকেইটা
82. Kinetic energy depends on— / গতিশক্তি কিহৰ ওপৰত নিৰ্ভৰ কৰে ?
- a) Position / স্থান b) Velocity / বেগ c) Shape / আকাৰ d) Colour / ৰং

95. Which of the following is a part of excretory system? / তলত দিয়া কোনবিধ ব্বেচনতন্ত্ৰৰ অংশ?
- a) Kidneys / বৃক্ক b) Lungs / হাঁওফাওঁ c) Gills / মাছৰ ফুল d) All the above / আটাইবোৰ
96. The first part of large intestine is called as- / বৃহদান্ত্ৰৰ প্ৰথম অংশক কোৱা হয়-
- a) Rectum / মলভাণ্ডাৰ b) Duodenum/ডুঅডেনাম c) Colon / ক'লন d) Intestine / অন্ত্ৰ
97. Bile is stored in- / পিত্তৰস ক'ত জমা হয়?
- a) Liver / যকৃত b) Stomach / পাকস্থলী c) Duodenum / ডুঅডেনাম d) Gallbladder / পিত্ত
98. Mucin / মিউচিনে-
- a) Lubricates food / খাদ্য বিজলুৱা কৰে b) Kills bacteria / বেঞ্জেৰিয়া মাৰে
c) Digests proteins / প্ৰটিন পাচন কৰে d) Digests fats / চৰ্বী পাচন কৰে
99. Which of the following harm the Ozone layer? / তলৰ কোনটোৱে অ'জন স্তৰৰ ক্ষতি কৰে?
- a) Oxygen / অক্সিজেন b) Carbon monoxide / কাৰ্বন ম'নঅক্সাইড
c) Carbon dioxide / কাৰ্বন ডাই অক্সাইড d) Chlorofluorocarbons / ক্ল'ৰ'ফ্ল'ৰ'কাৰ্বন
100. Fats and carbohydrates are known as- / চৰ্বী আৰু কাৰ্বহাইড্ৰেট কি হিচাপে জনাজাত?
- a) Body building foods / শৰীৰ গঠনকাৰী খাদ্য b) Energy releasing foods / শক্তিদায়ক খাদ্য
c) Protective foods / সুৰক্ষাকাৰী খাদ্য d) Harmful foods / অনষ্টকাৰী খাদ্য

O O O O O